



DELOVNI LIST

Področje: zgodovina, arheologija.

Starostno obdobje: 2. triada (4., 5., 6. razred)

Navodilo za delo:

Preberi kratko besedilo in reši nalogo.

Naslov: Bakrena doba

Ali veste, katera doba sledi kameni dobi in kakšno pomembno spremembo prinaša?


Kameni dobi sledi bakrena doba. Že ob koncu mlajše kamene dobe je človek spoznal, da se nekateri kamni, s katerimi je obdal ognjišče, stalijo. To so bili nekateri v naravi najdeni rdečkastorjavi kamni, ki jih danes imenujemo samородni baker. Iz njih je s segrevanjem in kovanjem oblikoval prva preprosta orodja in orožja. Kasneje je z ustvarjanjem višje temperature znal baker pridobiti tudi s taljenjem rude, orodje pa izdelati z vlivanjem v kamnite kalupe. Čeprav začetke domače proizvodnje zasledimo že v drugi polovici 4. tisočletja pr. n. št., se je zares razmahnila šele v prvi polovici 3. tisočletja pr. n. št.



Bakrena sekira, Osek, Slovenske gorice, hrani Pokrajinski muzej Maribor

GOSPODARSTVO PRVIH KOVINARJEV

Surovine oz. delovne pripomočke na levi strani poveži z dejavnostjo in nato z izdelkom na desni. Z vsako pravilno povezavo boš dobil črko, ki jo vpiši v spodnjo tabelo. Izvedel boš, kateri tip naselbine se v bakreni dobi pojavi na Ljubljanskem barju.

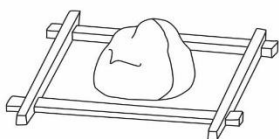


1 ŽRMLJE

LONČARSTVO



NIT Č

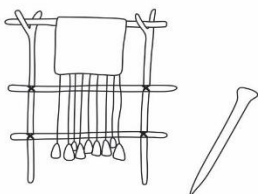


2 GLINA

MLETJE ŽITA



OBLEKA I




3 STATVE, IGLA

ŽIVINOREJA



LONČENINA L



4 DOMAČE ŽIVALI

METALURGIJA



MOKA O



5 VRETENO

TKANJE



SEKIRA A



6 KAMNITI KALUP

PREDENJE



HRANA Š

	1	2	3	4	5	6
K						